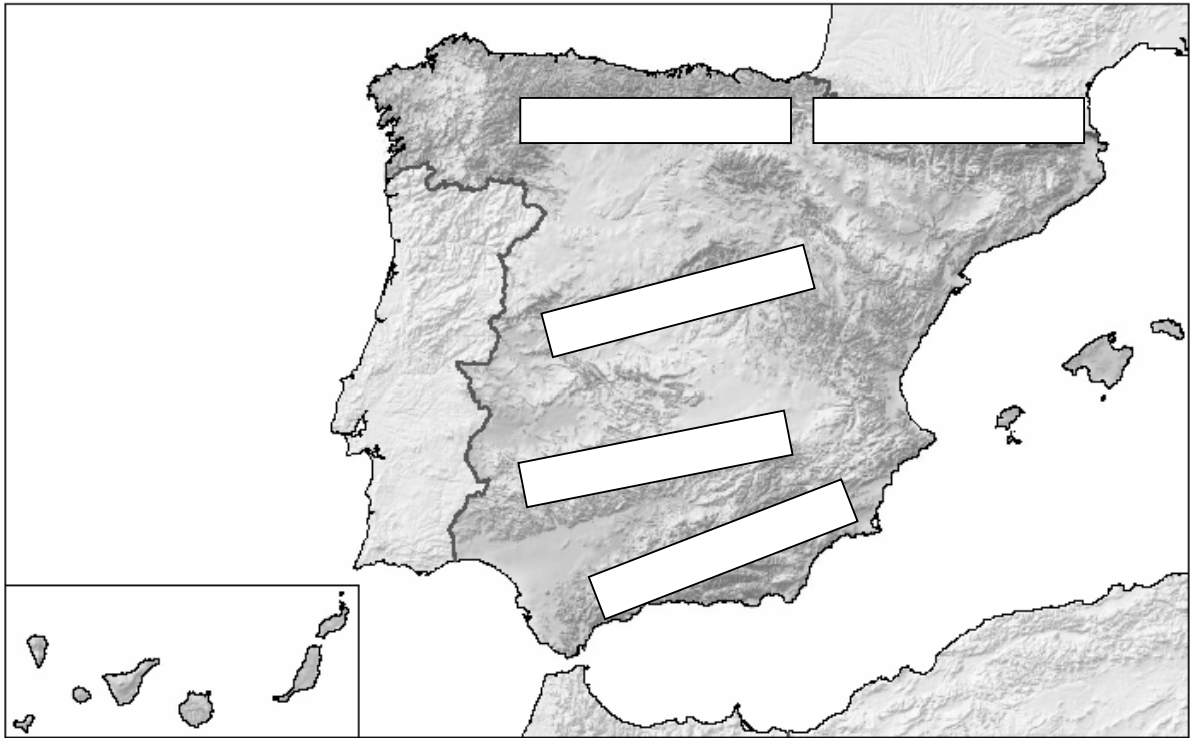
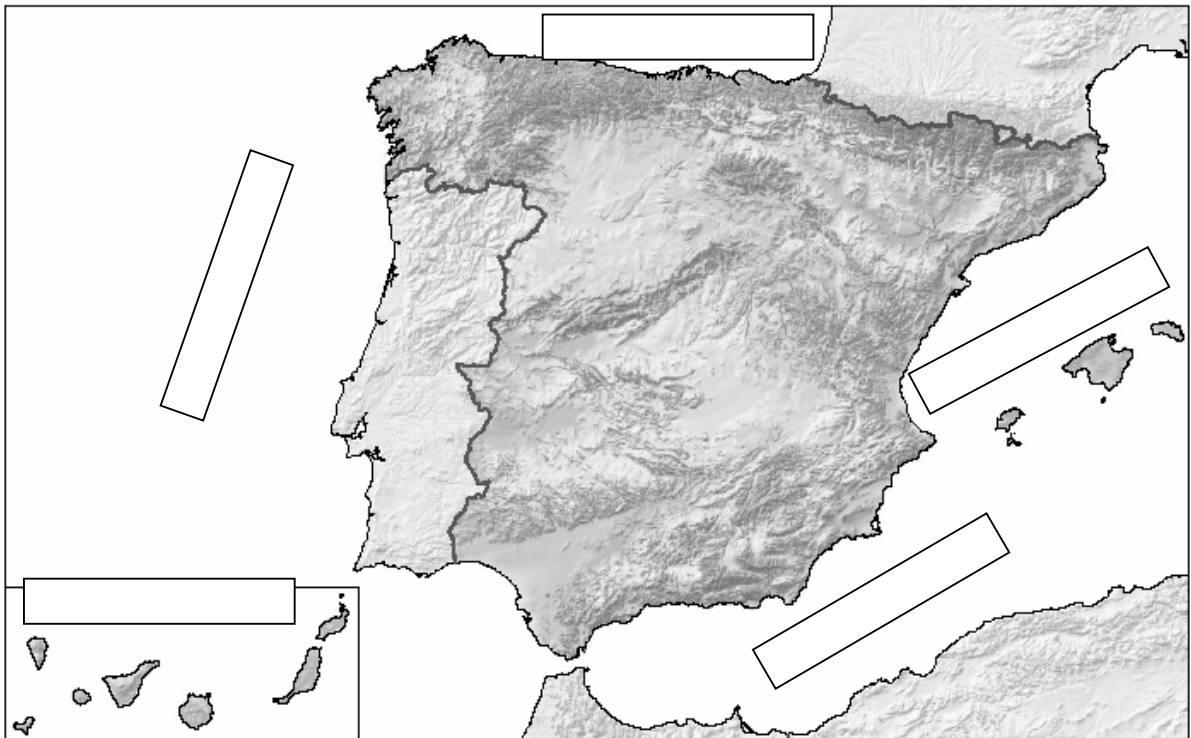


Nombre: _____ Nº: _____ Fecha: _____

1. Escribe en el lugar correspondiente el nombre de las cordilleras indicadas.

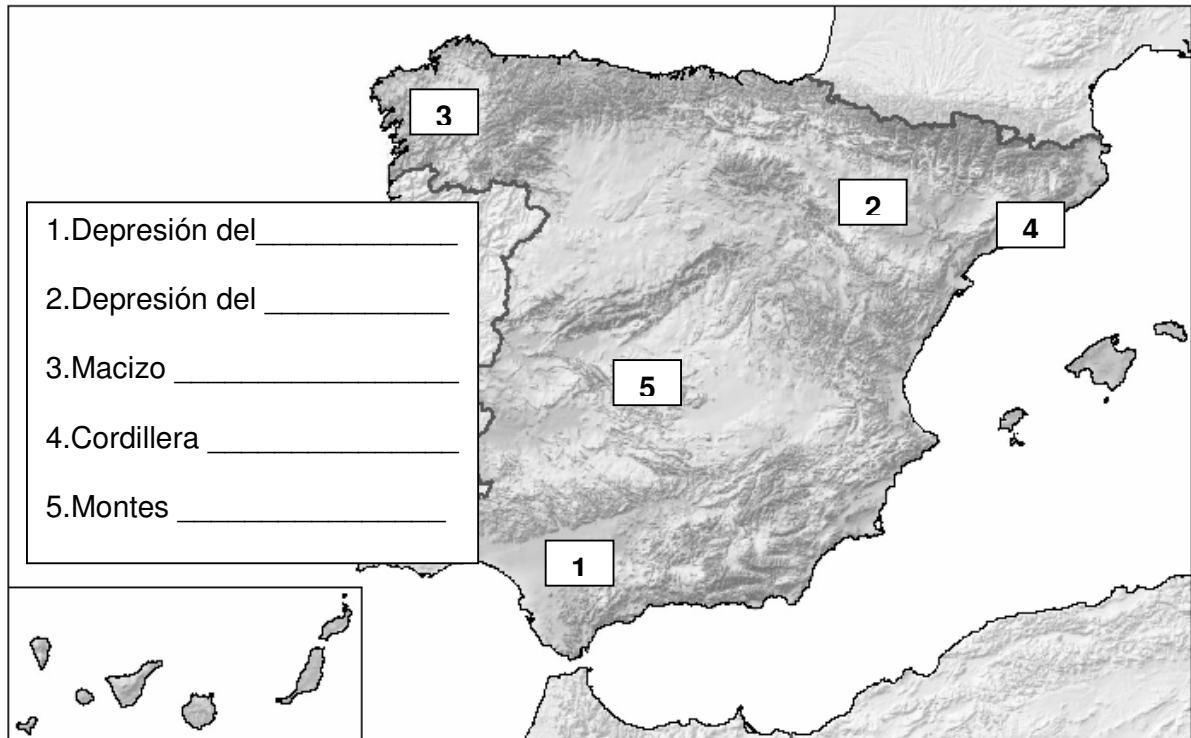


2. Escribe en el lugar correspondiente el nombre de los mares y océanos que rodean la península y el de los dos archipiélagos que forman parte de España:



Nombre: _____ Nº: _____ Fecha: _____

3. Escribe en el lugar correspondiente el nombre de las unidades de relieve señaladas en el mapa:



4. Clasifica estos ríos según su vertiente:

Duero, Besaya, Tago, Júcar, Guadiana, Bidasoa, Guadalquivir, Nervión, Ebro, Turia.

VERTIENTE CANTÁBRICA	VERTIENTE ATLÁNTICA	VERTIENTE MEDITERRÁNEA

5. Completa:

El río más largo de la península Ibérica es el _____

El río más largo de España es el _____

El pico más alto de la península Ibérica es el _____

El pico más alto de España es el _____

Nombre:_____ Nº:_____ Fecha:_____

6.Completa:

Separando la submeseta norte de la submeseta sur se encuentra la cordillera del Sistema_____.

– Dentro de la submeseta sur se encuentran los Montes de _____.

– Entre el Sistema Ibérico y los Montes Pirineos se encuentra la depresión del _____.

– Al norte de la depresión del Guadalquivir está Sierra _____.

– El Macizo _____se encuentra al noreste de la Península.

7.Clasifica estos accidentes costeros en la costa correspondiente:

Cabo de Peñas, Mar Menor, Cabo Finisterre, Cabo De Ajo, Rías Bajas, Cabo Machichaco, Albufera de Valencia, Delta del Ebro, Marismas de Doñana.

COSTA CANTÁBRICA	COSTA ATLÁNTICA	COSTA MEDITERRÁNEA

8.Escribe el nombre de los cinco climas existentes en el territorio español:

- 1.
- 2.
- 3.
- 4.
- 5.

Nombre: _____ Nº: _____ Fecha: _____

9. Elige uno de estos climas (oceánico, continental o mediterráneo) y completa la siguiente ficha:

CLIMA _____	
LOCALIZACIÓN	¿En qué parte de la península se da? Comunidades que tienen este clima:
PRECIPITACIONES	
TEMPERATURAS	

10. Escribe V para verdadero y F para falso:

	El río Ebro atraviesa la comunidad autónoma de Aragón.
	Los ríos de la vertiente cantábrica son cortos porque la Cordillera Pirenaica está muy cerca de la costa.
	El Miño es un río de la vertiente atlántica.
	El Llobregat es un río de la vertiente cantábrica.
	El clima característico de Canarias es el subtropical.
	El clima característico de Extremadura es el oceánico.
	La bahía de Santander está en la costa cantábrica.
	El golfo de Cádiz está en la costa mediterránea.
	Los Pirineos separan España de Portugal.
	Las islas Baleares son de origen volcánico.